

En course, Rémi a acheté un téléphone à 92 €, un jeu à 55 € **et** des bonbons 8 €.

◆ Combien a-t-il dépensé **en tout** ?



Opération en ligne :

Opération :

Solution : ;

En course, Marc a acheté un transformer 33 €, un bakugan 5 € **et** des bonbons 6 €.

◆ Combien a-t-il dépensé **en tout** ?




Opération en ligne :

Opération :

Solution :

En course, Marc a acheté 6 Bandes dessinées à 9€ et 2 paquets de bonbons à 3€.

◆ Combien a-t-il dépensé en tout ?



Opérations en ligne :

Coût des bandes dessinées :



Coût des bonbons :

Coût total :

Solution :

En course, Marc a acheté une cassette vidéo d'Alvin et une bande dessinée des Schtroumpf. Il a donné un billet de **50 €**. La caissière lui a rendu **22 €**.

- ◆ Combien a-t-il **payé** ?



Opérations en ligne :

Opération :

Solution : ;

En course, Papa a acheté une télé **833€**, un téléphone **97 €** et un ordinateur **672 €**

◆ Combien a-t-il **dépendé en tout** ?



Opérations en ligne :

Opération :

Solution : ;

En course, maman a acheté une robe 238€, un sac à main 97 € , un foulard 33€ et un téléphone 86 €

◆ Combien a-t-elle **dépensé en tout** ?



Opérations en ligne :

Opération :

Solution : ;

En course, Rémi a acheté un téléphone, un jeu vidéo **et** des bonbons .
Il donne un billet de **200€**, la caissière lui rend **47 €**.

◆ Combien a-t-il payé ses courses ?



Opération en ligne :

Opération :

Solution :

